

# 分数の大きさ(1)

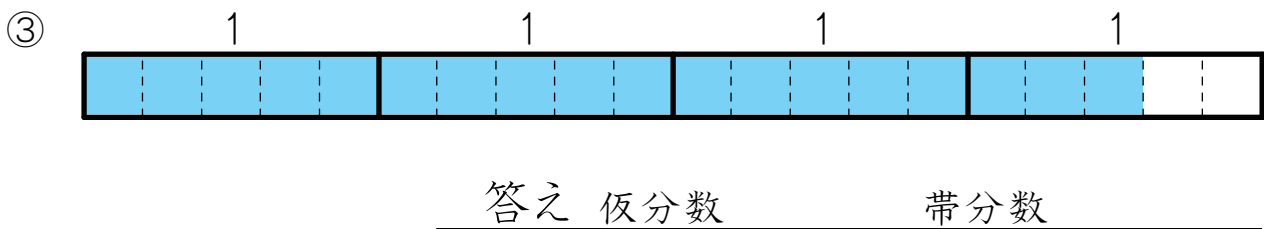
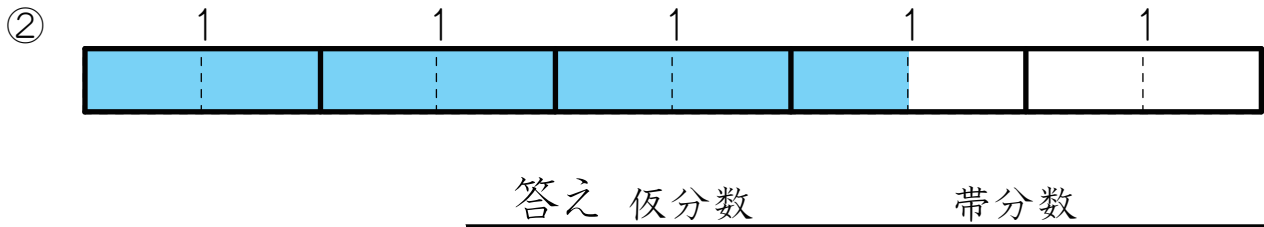
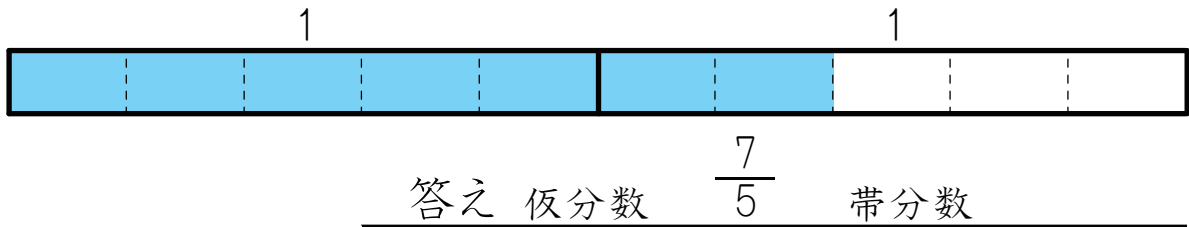
名前 \_\_\_\_\_

☆ 真分数には○ 仮分数には△ 帯分数には× を□の中に書きましょう。

□  $\frac{1}{4}$    □  $\frac{7}{2}$    □  $9\frac{1}{4}$    □  $\frac{8}{10}$    □  $12\frac{5}{7}$    □  $\frac{2}{3}$

□  $\frac{12}{8}$    □  $4\frac{3}{5}$    □  $\frac{3}{7}$    □  $\frac{9}{4}$    □  $3\frac{2}{5}$    □  $\frac{4}{4}$

☆ それぞれ仮分数と帯分数、ふたつの表し方で表しましょう。



☆ 数直線の上には真分数か仮分数、下には帯分数を書きましょう。

